

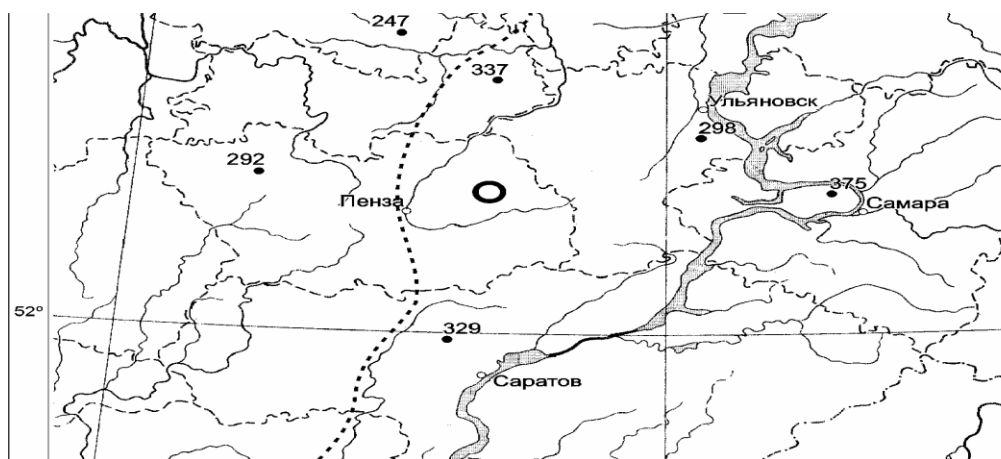
Областная географо-краеведческая олимпиада среди школьников, посвящённая памяти Л.А.Загоскина (2024 год).

I. Тестовая часть

1. Поверхность Пензенской области понижается к:

- А) северу Б) югу В) западу Г) востоку

2. Укажите, что показано пунктирной линией, проходящей через территорию Пензенской области?



- А) водораздел Волги и Дона
Б) граница днепровского оледенения
В) «путь из варяга в греки»
Г) глубинный разлом

3. Какой океан оказывает основное влияние на климат Пензенской области:

- А) Тихий Б) Атлантический В) Северный Ледовитый Г) Индийский

4. Выберите вариант ответа, в котором все перечисленные реки Пензенской области относятся к бассейну Волги:

- А) Сура, Айва, Выша Б) Сура, Ворона, Кадада
В) Сура, Хопер, Кадада Г) Сура, Выша, Сердоба

5. Выберите верное утверждение, касающееся истории образования Пензенской области:

- А) В июле 1928 районы Пензенского округа стали подчиняться Самарской области
Б) В июле 1928г. Пензенская губерния была переименована в Пензенскую область
В) В феврале 1939 г. территория вместе с Пензой вошла в состав Тамбовской области
Г) В феврале 1939 г. образована Пензенская область с новыми границами в составе 38 районов

6. Древние жители пензенского края, городища и селища XI-XIII вв. которых раскопаны на территории Золотаревского городища, занимались пашенным земледелием, коневодством, разведением КРС, ремеслами. Дальнейшее их социальное и этническое развитие было пресечено монголо-татарским нашествием. Назовите этот народ:

- А) мордва-эрзя
Б) мордва-мокша
В) буртасы
Г) печенеги

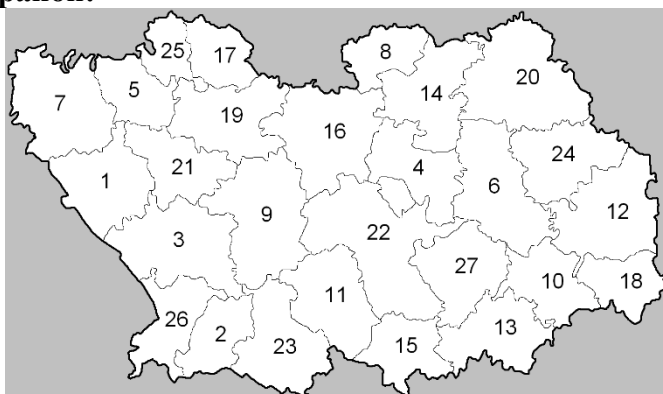
7. Укажите в каком варианте перечислены только соседи второго порядка Пензенской области:

- А) Самарская область, Московская область, Нижегородская область
- Б) Самарская область, Новосибирская область, Республика Мордовия
- В) Самарская область, Рязанская область, Тамбовская область
- Г) Республика Мордовия, Республика Чувашия, Республика Татарстан

8. Природно-климатические условия позволяют сельскому хозяйству Пензенской области специализироваться на производстве:

- А) сахарной свеклы, сои, чая Б) зерна, подсолнечника, сахарной свеклы
- В) зерна, бахчевых культур, льна Г) подсолнечника, пасленовых, сои

9. Укажите какой цифрой на карте Пензенской области обозначен Земетчинский район:



- А) 7
- Б) 1
- В) 5
- Г) 26

10. Для какого орографического объекта Пензенской области характерны наибольшие высоты:

- А) Керенско-Чембарская возвышенность Б) Сурское плато
- В) Сурская Шишка Г) Сурско-Мокшинское водораздельное плато

11. Выберите верное утверждение, характеризующее национальный состав населения Пензенской области:

- А) В Неверкинском, Сосновоборском и Шемышейском районах области мордва и татары превосходят по численности русское население
- Б) На втором месте по численности представителей в Пензенской области находится этническая группа – чувашаи
- В) В национальной структуре населения Пензенской области преобладают фино-угорские народы

12. Годовая сумма осадков на возвышенных участках Пензенской области достигает:

- А) 650 мм Б) 550 мм В) 500 мм Г) 1000 мм

13. Найдите и укажите несоответствие город-река, на берегах которой он расположен:

- А) Пенза-Сура
- Б) Белинский-Чембар
- Б) Никольск-Кадада
- Г) Сердобск-Сердоба

II. Теоретическая часть

ВОПРОС 1. На рисунке изображен один из брендов Пензенской области, создаваемый мастерами-гончарами в одноименном селе.



Поэт Ольга Шаркова, так описывает это удивительное произведение искусства:

«...Свистульки причудливый

Вид принимали -

Героев таких

Вы во сне лишь видали:

Рога словно ели

Широки, ветвисты,

Горят серебром,

Иногда – золотисты...»

А) Назовите, что изображено на рисунке _____.

Б) Какой материал, добываемый в Пензенской области используется для изготовления этого изделия _____.

В) Какая цифра на карте Пензенской области соответствует населенному пункту, в котором насчитывалось почти 200 мастеров, умевших понимать и оживлять природный материал _____.

Г) Укажите как называется административный район Пензенской области, в котором находится населенный пункт, вписанный Вами выше?

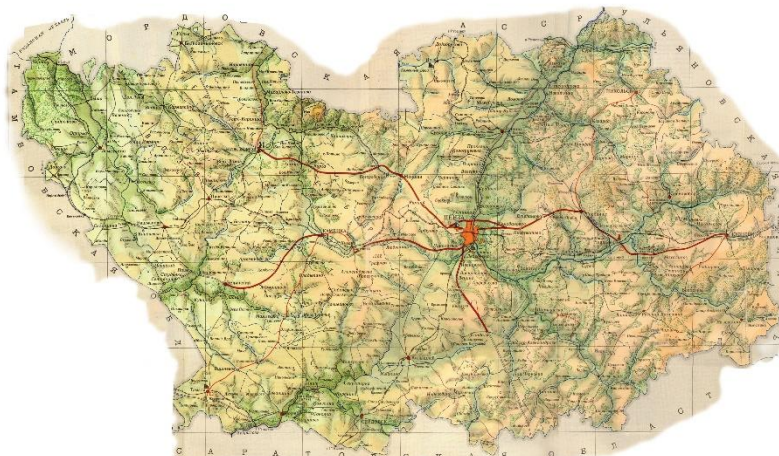


ВОПРОС 2. В долине реки Сура часто можно обнаружить окаменелости организмов, населяющих моря, заходившие на территорию современной Пензенской области в далеком прошлом. С греческого языка название этого живого организма переводится как «наконечник копья». Назовите эту окаменелость _____.

ВОПРОС 3. О каком опасном метеорологическом явлении, характерном для территории Пензенской области идёт речь в приведенном ниже сообщении:

«В период с 30 октября по 31 октября 1998 г. от продолжительного разрушительного ветра по территории области пострадали города Пенза, Сердобск, Каменка и многие другие населенные пункты в 25 районах области. Пострадало 208 человек. Получили повреждения различной степени крыши 1009 жилых домов, 132 объекта соцкультбыта, 76 производственных, 495 сельскохозяйственных объекта. Повреждены 47,5 км ЛЭП, 6,4 км линий связи, 2210 трансформаторных подстанций, повалены 191 опора ЛЭП, 51 опора линий связи. На ликвидации последствий стихийного бедствия было задействовано 1356 человек, 355 единиц автомобильной и инженерной техники. Материальный ущерб составил свыше 13 млн рублей.»

ВОПРОС 4. Укажите какой географический объект нельзя обнаружить на карте Пензенской области, изданной 1970 году?



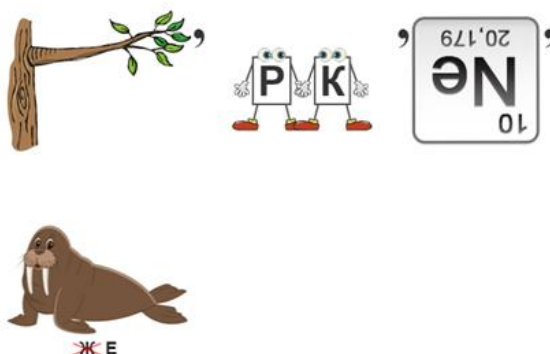
ВОПРОС 5. В далеком 1876 году, мировые СМИ выходили с заголовками: «Свет приходит к нам с Севера — из России»; «Северный свет, русский свет — чудо нашего времени»; «Россия — родина электричества». На разных языках журналисты восхищались русским инженером, чьё изобретение, представленное на выставке в Лондоне, изменило представление о возможностях использования электричества. (по материалам статьи ««Русская свеча». Как инженер Яблочков подарил миру электрический свет», АиФ, 2016 г.)

В каком городе Пензенской области установлен памятник известному изобретателю, инженеру П.Н. Яблочкову?

ВОПРОС 6. В апреле 2023 г. с железнодорожного вокзала Саранска отправился в первый рейс скоростной пригородный поезд, который связал столицу Мордовии с Пензой. Поездка до Пензы, из Пензы до Саранска занимает менее трех часов. Время в дороге путешественники проводят с комфортом: современный скоростной электропоезд, видеонаблюдение, кондиционер, обеззараживание воздуха, мягкие сиденья, WiFi, индивидуальные USB-розетки. Какое название получил данный пригородный поезд, запущенный для увеличения турпотока между Пензой и Саранском?

ВОПРОС 7. Ребус на тему «Воды Пензенской области»

Всем пензенцам хорошо известен самый крупный водоём в Пензенской области, внимательно посмотрите ниже представленный ребус и укажите как данный объект называют местные жители?



Загоскинский тур.

1. Как объяснял мичман Загоскин выбор им места службы после окончания Кронштадтского морского кадетского корпуса?
2. Перед каким событием Л.А. Загоскин в 1839 году заехал в родную Пензу, чтобы проститься с отцом?
3. Какие объекты на карте Аляски были исследованы и нанесены на карту Л.А. Загоскиным?



4. Великий русский критик, наш земляк В.Г. Белинский в известной статье «Взгляд на русскую литературу 1847 года» на страницах журнала «Современник» писал: «В библиотеке для чтения» тянулась слишком полгода очень любопытная статья по названию «Путешествие и открытие лейтенанта Загоскина в русской Америке», вышедшая теперь отдельной книгой под другим заглавием. Как называлась эта книга?

5. Как связаны с именем Л.А. Загоскина названия следующих населённых пунктов Пензенской и соседней Рязанской губерний?

1. с. Николаевка Пензенского уезда
2. с. Краснополье Пензенского уезда
3. с. Загоскино
4. Рязанский кремль

6. Л.А. Загоскин наш знаменитый земляк, «Русский Колумб». В 2018 году в городе Пензе ему установили памятник. (см фото). Скажите, кто автор бюста, где и почему установлен памятник?

